

# 小 論 文

(教育学部)

令和4年度【前期日程】

問題冊子 1～2ページ  
答案用紙 1枚  
下書き用紙 1枚

## 注 意 事 項

1. 試験開始の合図があるまでこの問題冊子を開けてはいけない。
2. 問題冊子や答案用紙の枚数の不足や、印刷に不鮮明なところがあれば申し出ること。
3. 解答は必ず答案用紙の指定された箇所に記入すること。
4. 受験番号は、答案用紙の所定の欄2箇所に必ず記入すること。記入を忘れたり、あるいは誤った番号を記入した場合は失格となることがある。
5. 試験が終了したら、答案用紙の表面を上にして机上に置くこと。
6. 退室するときは、問題冊子・下書き用紙を持ち帰ること。

1

現在の日本が抱える課題のひとつに、少子高齢化と人口減少があげられる。まず、次の日本の人口に関する図をすべて参照して、日本の少子高齢化と人口減少を説明しなさい。次に、少子高齢化と人口減少という状況や、それに伴って発生する課題を改善するために進められてきた施策を述べなさい。最後に、課題解決の可能性について、あなたの考えを述べなさい。文字数は全体で1,200字以内とする。

なお図を参照する際は、「図1から～」、「～である(図1)」のように文中に明示して記述すること。また、図を参照する順序は任意でよい。

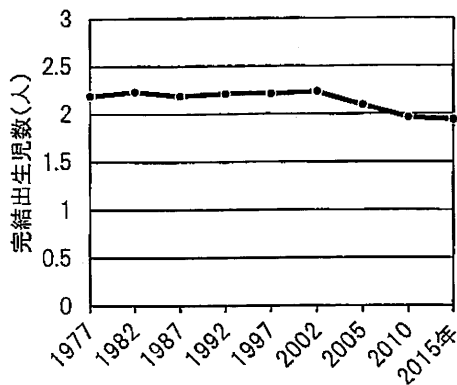


図 1 完結出生児数の推移

※完結出生児数とは、結婚した夫婦の最終的な平均出生子ども数である。  
資料：出生動向基本調査

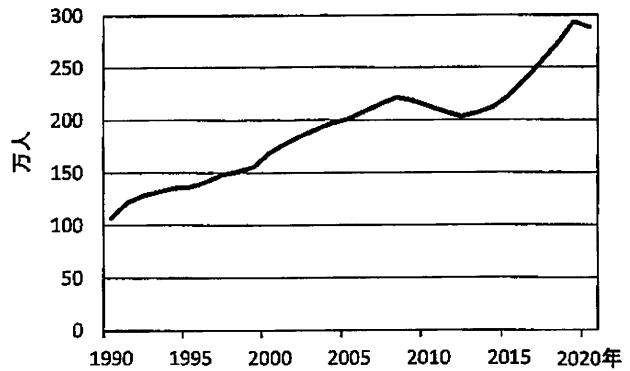


図 2 在留外国人数の推移

※在留外国人とは、日本国内に一定期間以上居住している外国人である。  
資料：国立社会保障・人口問題研究所「人口統計資料集 2021 年版」、在留外国人統計

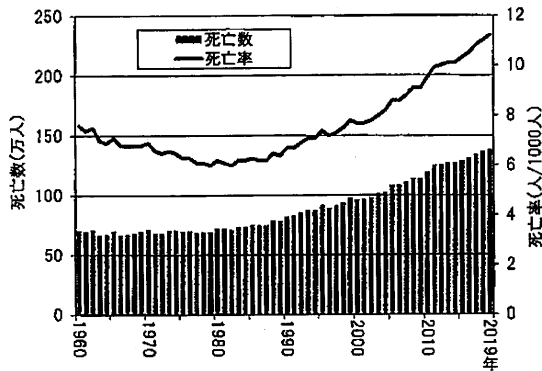


図 3 死亡数および死亡率の推移

※死亡率とは、人口 1000 人あたりの年間死亡者数である。  
資料：人口動態統計

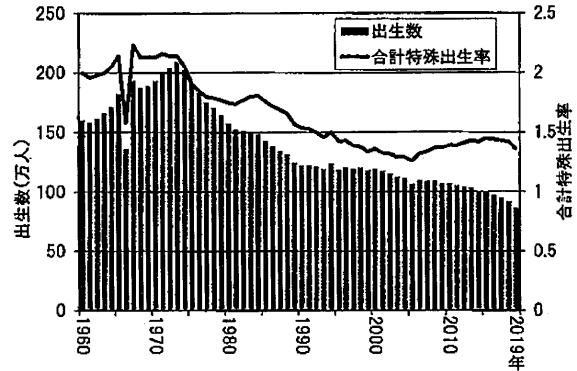


図 4 出生数および合計特殊出生率の推移

※合計特殊出生率とは、一人の女性が一生の間に生む子供の数に相当する指標である。  
資料：人口動態統計

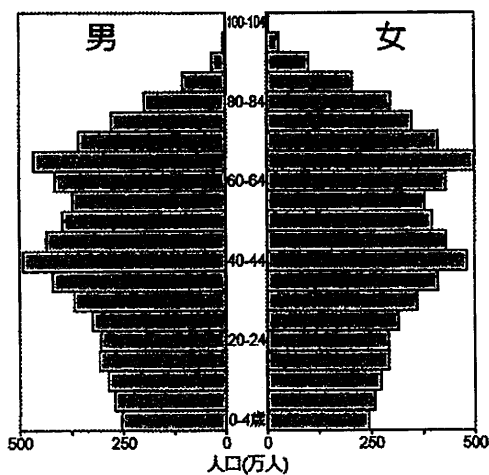


図 5 人口ピラミッド(2015 年)

資料：国勢調査

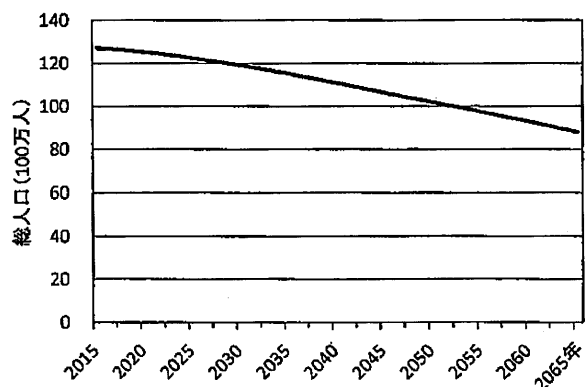


図 6 日本の将来推計人口

資料：国立社会保障・人口問題研究所「日本の将来推計人口(平成 29 年推計)」